
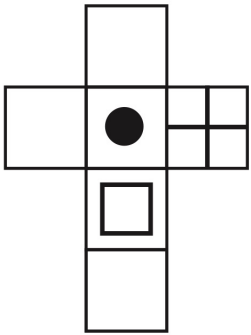
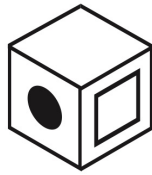


— TGAT2 —

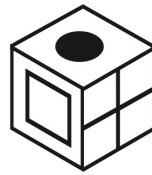
แบบพับกล่อง จงพิจารณาว่าภาพที่กำหนดมาให้ เมื่อถูกพับตามแนวเส้นประแล้วจะปรากฏเป็นกล่องที่ตรงกับตัวเลือกใด




1.



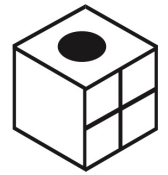
2.



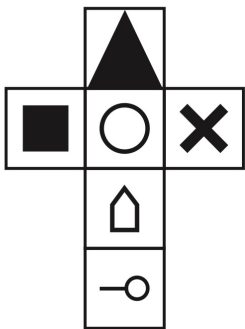
3.



4.



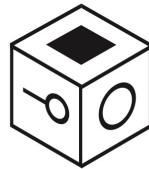
5.



1.



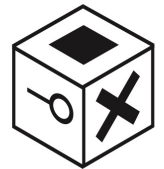
2.



3.

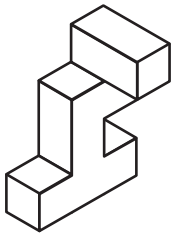
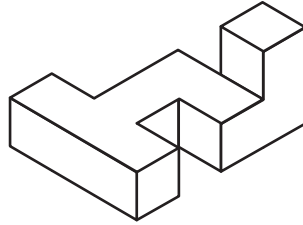


4.

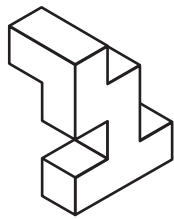


5.

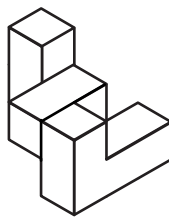
แบบหาภาพต่าง กำหนดภาพชิ้นงานสามมิติมาให้ต้องพิจารณาว่าภาพชิ้นงานใดจากตัวเลือกที่หมุนแสดงในมุมมองต่างๆ นั้น เป็นภาพชิ้นงานที่แตกต่างไปจากภาพที่กำหนดให้



1.



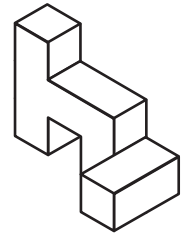
2.



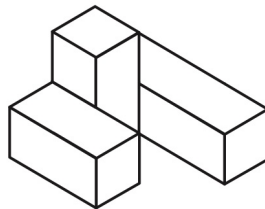
3.



4.



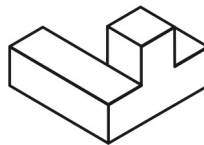
5.



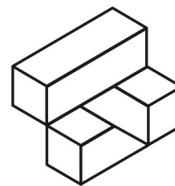
1.



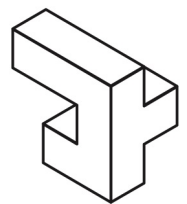
2.



3.

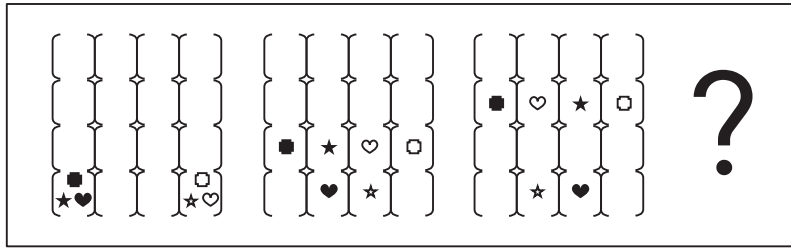


4.

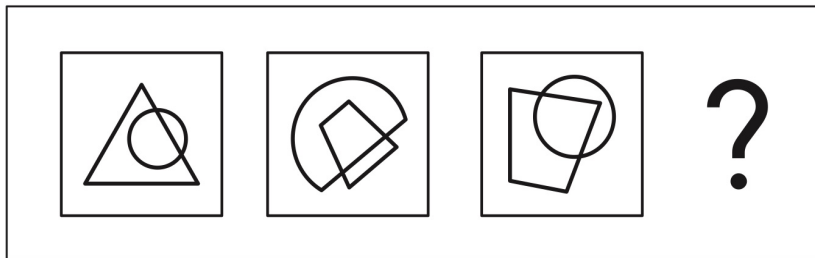


5.

อนุกรมภาพ ให้หาระบบของภาพที่เรียงกันใน 3 ภาพแรก แล้วพิจารณาว่าภาพที่แทนด้วย เครื่องหมาย ? ควรจะเป็นภาพใดในตัวเลือก 1 – 5

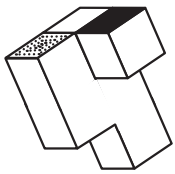
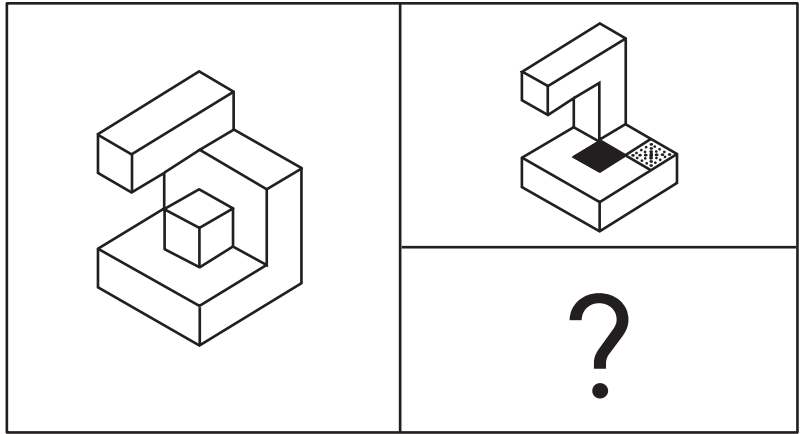


- 1.
- 2.
- 3.
- 4.
- 5.



- 1.
- 2.
- 3.
- 4.
- 5.

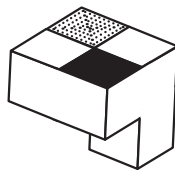
แบบประกอบภาพ กำหนดภาพรูปร่างต่างๆ มาให้ โดยให้พิจารณาว่าภาพรูปร่างที่กำหนดมาให้ นั้น เป็นรูปที่เกิดจากการประกอบกันจากภาพรูปร่าง 2 รูป ที่ถูกหมุนในทิศทางต่างๆ โดยที่ภาพรูปร่างที่จะ นำมาประกอบกันนั้นต้องมีตำแหน่งของสัญลักษณ์ที่ตรงกันจึงจะสามารถประกอบเข้ากันได้พอดี



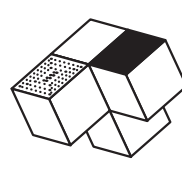
1.



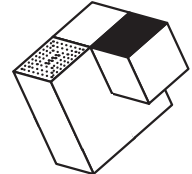
2.



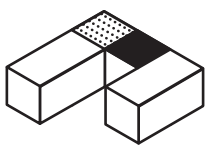
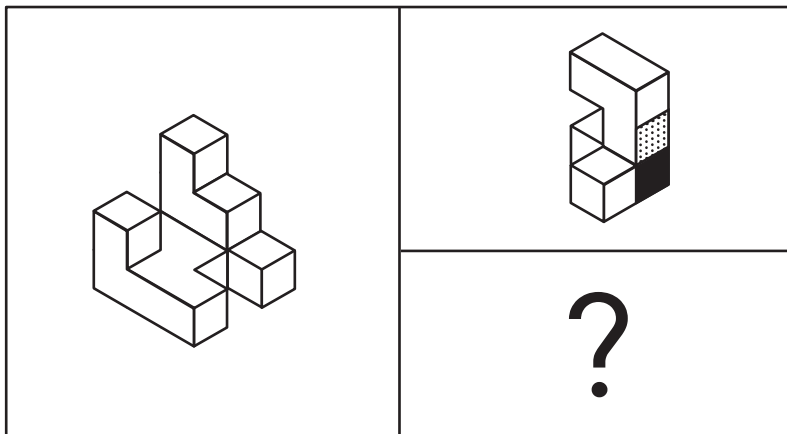
3.



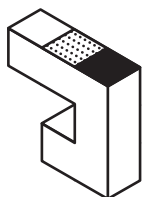
4.



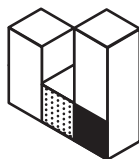
5.



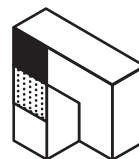
1.



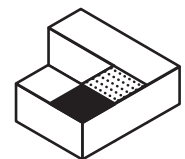
2.



3.

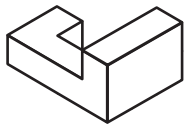
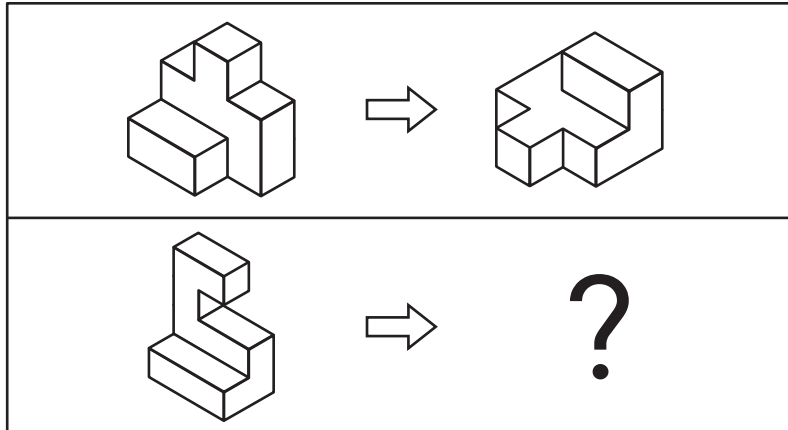


4.



5.

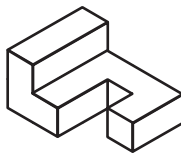
แบบหมุนภาพสามมิติ คำถามแต่ละข้อกำหนดภาพมาให้ 1 ข้อ เป็นชิ้นเดียวกัน ซึ่งหมุนเปลี่ยนมุมมองไปในทิศทางที่ต่างกัน จากนั้นให้พิจารณาว่าภาพในกรอบถัดมาที่กำหนดให้เมื่อหมุนไปในทิศทางเดียวกันกับภาพแรกแล้วเป็นภาพตามข้อใด



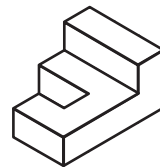
1.



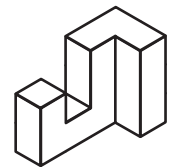
2.



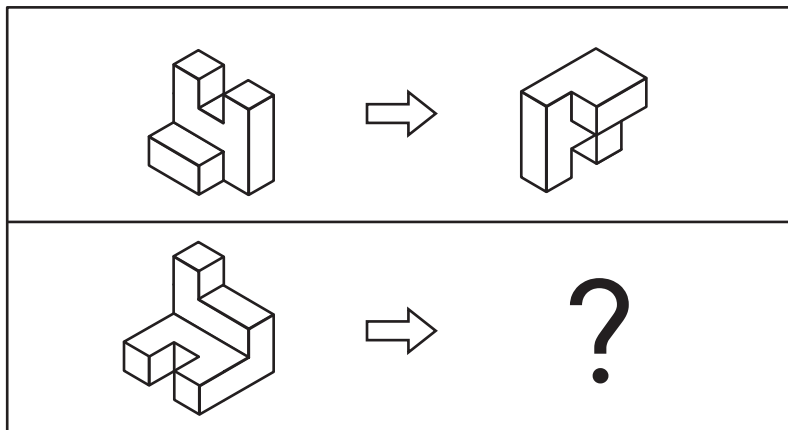
3.



4.



5.



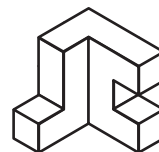
1.



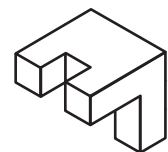
2.



3.

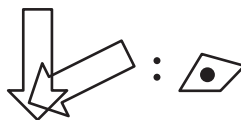
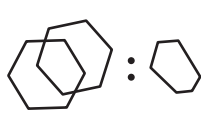
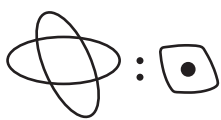
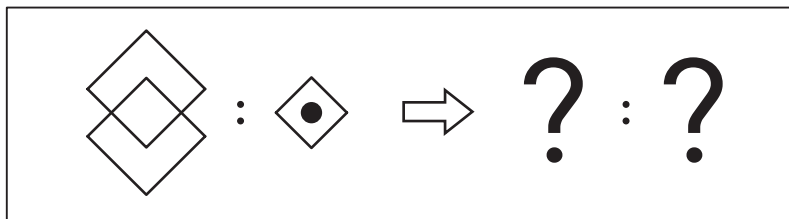
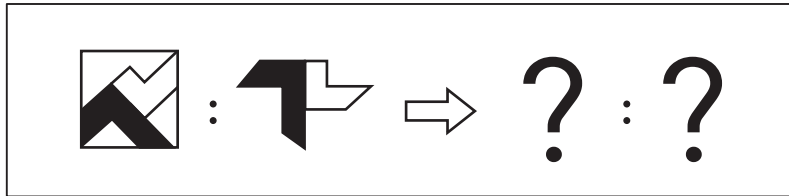


4.



5.

อุปมาอุปไมยภาพ ให้หาความสัมพันธ์ระหว่างภาพที่กำหนดให้ในคู่แรก แล้วพิจารณาภาพคู่จากตัวเลือก 1 – 5 ว่าภาพคู่ใดมีความสัมพันธ์เช่นเดียวกับภาพคู่ที่กำหนดให้



1.

2.

3.

4.

5.